


Je consolide mes connaissances

- 1 Le papa d'Arthur a acheté ces boîtes d'œufs.
Combien d'œufs a-t-il achetés ?

Il a acheté œufs.



- 2 Y a-t-il bien 10 chocolats dans la boîte ?



Entoure la bonne réponse.

oui non

- 3 Combien de chocolats a Zoé ?







Zoé a chocolats.

- 4 Gribouille veut 43 chocolats.
Entoure les boîtes et les chocolats qu'il doit prendre.



- 5 Trouve le nombre total de points avec la méthode de ton choix.



- 6 Complète.

$9 + 5 = \dots\dots\dots$

$5 + 6 = \dots\dots\dots$

$7 + 5 = \dots\dots\dots$

$8 + 5 = \dots\dots\dots$

$4 + 8 = \dots\dots\dots$

$3 + 9 = \dots\dots\dots$

$5 + 7 = \dots\dots\dots$

$6 + 8 = \dots\dots\dots$